


C. S. MANYANGA
32, AV. COMITE URBAIN
KINSHASA / GOMBE

NOM :
DATE :
CLASSE : 2^{ème} MATERNELLE

EXERCICES A DOMICILE N° 1

ACTIVITE MATHEMATIQUE :

1. Compte et colorie 4 horloges



2. Dessine 4 poussins

3. Entoure le chiffre 3

0 5 1 3 2 4 0 3 2 1 3 4


C. S. MANYANGA
32, AV. COMITE URBAIN
KINSHASA / GOMBE

NOM :
DATE :
CLASSE : 2^{ème} MATERNELLE

EXERCICES A DOMICILE N° 2

ACTIVITE MATHEMATIQUE : NOTION DE GRANDEUR

1. Colorie avec de couleurs différentes les grandes étoiles et les petites étoiles



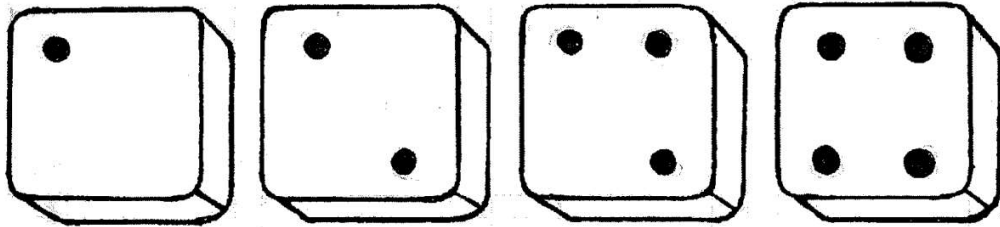
C. S. MANYANGA
32, AV. COMITE URBAIN
KINSHASA / GOMBE

NOM :
DATE :
CLASSE : 2^{ème} MATERNELLE

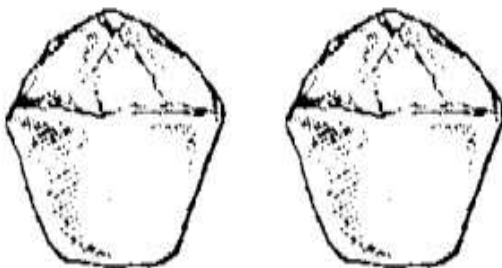
EXERCICES A DOMICILE N° 3

ACTIVITE MATHEMATIQUE : IDEE DE L'ADDITION

1. Observe ces dominos et ensuite ajoute les points qui manquent sur les dés pour faire le nombre 4



2. Ajoute pour avoir 4.



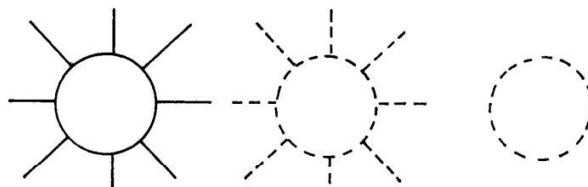
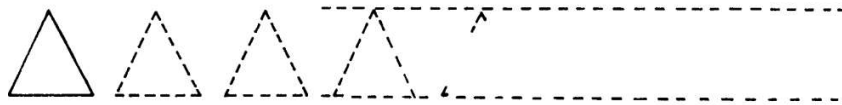
C. S. MANYANGA
32, AV. COMITE URBAIN
KINSHASA / GOMBE

NOM :
DATE :
CLASSE : 2^{ème} MATERNELLE


EXERCICES A DOMICILE N° 4

ACTIVITE D'ARTS PLASTIQUES :

1. Trace d'abord une ligne pleine sur les pointillés ; ensuite tu peux essayer de dessiner la figure sans aide.



2. Où va **Cendrine** ? Elle veut rejoindre sa maman. Quel chemin doit-elle suivre ?




C. S. MANYANGA
32, AV. COMITE URBAIN
KINSHASA / GOMBE

NOM :
DATE :
CLASSE : 2^{ème} MATERNELLE

EXERCICES A DOMICILE N° 5

ACTIVITE STRUCTURATION SPATIALE :

1. Nomme le contraire de **devant** et colorie le lapin qui illustre ce contraire



2. Entoure celui qui est **dans** la tente.

